

NOTA: Soalan dalam kotak yang digelapkan disesuaikan mengikut sukatan pelajaran terkini. Manakala format dan bentuk soalan tahun-tahun lepas masih relevan dengan format soalan terkini (Mulai SPM tahun 2018).

KERTAS SOALAN
PEPERIKSAAN SEBENAR

SPM

2016

KERTAS 1

Masa: 1 jam 15 minit

Kertas soalan ini mengandungi 40 soalan. Jawab semua soalan. Tiap-tiap soalan diikuti oleh empat pilihan jawapan yang berhuruf A, B, C, dan D. Bagi setiap soalan, pilih satu jawapan sahaja.

1 Maklumat berikut merujuk kepada perniagaan Encik Basiron.

Encik Basiron menggunakan kaedah garis lurus untuk mengira susut nilai kenderaan bagi setiap tempoh perakaunan.

Apakah konsep yang diamalkan oleh perniagaan Encik Basiron?

- A Materialiti
- B Ketekalan
- C Kos sejarah
- D Asas Perakaunan Akruan

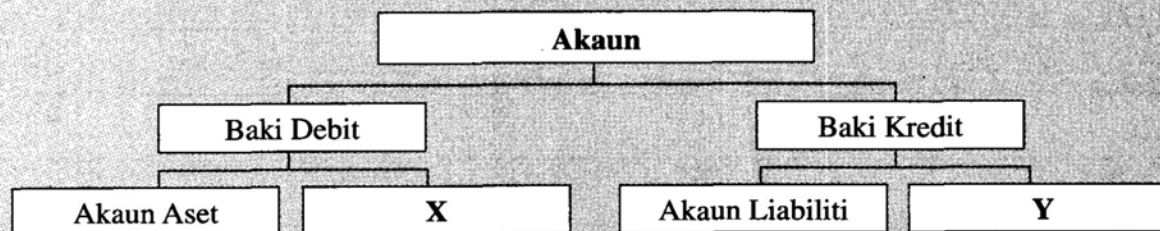
2 Berikut merupakan kesan satu urus niaga terhadap persamaan perakaunan yang diperolehi daripada Kedai Alat Tulis Rejang.

Aset	Liabiliti	Ekuiti Pemilik
RM	RM	RM
-350	-400	+50

Pernyataan manakah yang menunjukkan urus niaga di atas?

- A Menjelaskan hutang bernilai RM400 dengan cek RM350, diskaun diterima RM50
- B Menerima bayaran bernilai RM350 daripada Akaun Belum Terima, diskaun diberi RM50
- C Sebuah mesin taip bernilai RM400 dijual secara kredit pada harga RM350
- D Inventori alat tulis bernilai RM350 dijual secara kredit pada harga RM400

3 Rajah 1 berkaitan dengan pembahagian akaun.



Rajah 1

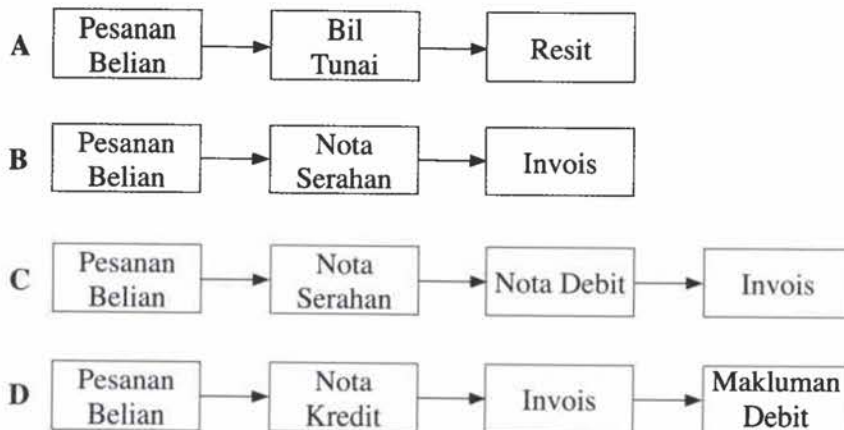
Apakah X dan Y?

	X	Y
A	Akaun Modal	Akaun Ambilan
B	Akaun Jualan	Akaun Belian
C	Akaun Belum Bayar	Akaun Belum Terima
D	Akaun Kadar Bayaran	Akaun Dividen

4 Situasi berikut berlaku dalam Perniagaan Ahmad.

Encik Ahmad telah menghantar e-mel kepada Pembekal Cerdik Komputer untuk membeli dua buah komputer bagi tujuan kegunaan pejabat secara kredit.

Pilih aliran dokumen yang betul.



5 Antara yang berikut, yang manakah sebab makluman kredit dikeluarkan?

- I Faedah simpanan tetap
 - II Dividen atas pelaburan
 - III Faedah atas overdraf
 - IV Caj bank
- A I dan II
B I dan IV
C II dan III
D III dan IV

6 Antara yang berikut, bayaran manakah yang direkod dalam Buku Tunai Runcit?

- I Setem RM10
 - II Gaji kerani RM350
 - III Minuman pelanggan RM45
 - IV Komputer pejabat RM2 500
- A I dan III
B I dan IV
C II dan III
D II dan IV

7 Maklumat berikut diperolehi daripada Kedai Sukaramai.

Barang niaga berkos RM180 telah diambil oleh pemilik untuk kegunaan keluarga. Urus niaga ini terlupa direkod dalam mana-mana buku.

Bagaimanakah kesilapan tersebut dibetulkan dalam Jurnal Am?

A Jurnal Am

Butir	Debit	Kredit
Ambilan Modal	RM 180	RM 180

B Jurnal Am

Butir	Debit	Kredit
Ambilan Inventori	RM 180	RM 180

C Jurnal Am

Butir	Debit	Kredit
Ambilan Barang niaga	RM 180	RM 180

D Jurnal Am

Butir	Debit	Kredit
Ambilan Belian	RM 180	RM 180

8 Pilih langkah mengimbangkan akaun mengikut urutan yang betul.

- I Jumlahkan kedua-dua lajur debit dan kredit
- II Cari perbezaan antara lajur debit dengan lajur kredit
- III Catatkan perbezaan itu sebagai baki hantar ke bawah
- IV Ambil jumlah yang lebih besar dijadikan sebagai jumlah kedua-dua lajur

- A I, III, IV, II
- B I, IV, II, III
- C IV, I, II, III
- D IV, I, III, II

- 9 Pasar Mini Rin membayar hutang kepada Syarikat Suria sebanyak RM300 dengan tunai. Apakah catatan bergu dalam buku Pasar Mini Rin?

	Debit	Kredit
A	Akaun Tunai	Syarikat Suria
B	Syarikat Suria	Akaun Tunai
C	Akaun Tunai	Pasar Mini Rin
D	Pasar Mini Rin	Akaun Tunai

- 10 Pernyataan manakah yang menerangkan fungsi Imbangan Duga?

- A Menunjukkan kedudukan kewangan perniagaan
- B Mengira untung kasar dan untung bersih
- C Menyemak ketepatan catatan bergu
- D Menghitung jumlah modal

- 11 Imbangan duga di bawah dipetik daripada buku perniagaan Syarikat Munirah.

Imbangan Duga pada 30 Jun 2015

Butir	Debit	Kredit
	RM	RM
Pulangan Diskaun	200	500

Pernyataan manakah yang menerangkan catatan di atas?

- A Pulangan Masuk RM200
Diskaun Diberi RM500
- B Pulangan Keluar RM200
Diskaun Diterima RM500
- C Pulangan Masuk RM200
Diskaun Diterima RM500
- D Pulangan Keluar RM200
Diskaun Diberi RM500

- 12 Pada 1 Januari 2010, seorang peniaga membeli sebuah van berharga RM60 000. Selepas lima tahun nilai semasanya ialah RM30 000.

Apakah sebab nilainya berkurang?

- A Berlaku kerugian dalam perniagaan
- B Kos pembaikan semakin meningkat
- C Berlaku kerosakan fizikal dan keusangan
- D Perbelanjaan perniagaan semakin bertambah

13. Di mana komisen belum terima dicatat?

- A Penyata Kedudukan Kewangan
- B Akaun Perdagangan
- C Akaun Untung Rugi
- D Akaun Penerimaan dan Pembayaran

14. Urus niaga berikut diambil daripada perniagaan Saujana Enterprise.

Pemilik membayar sewa rumah kediaman sebanyak RM2 400 dengan cek perniagaan.

Catatan manakah yang betul dalam lejar?

A

Akaun Sewa	
	RM
Bank	2 400
Akaun Bank	
	RM
Sewa	2 400

B

Akaun Ambilan	
	RM
Bank	2 400
Akaun Bank	
	RM
Ambilan	2 400

C

Akaun Sewa	
	RM
Bank	2 400
Akaun Bank	
	RM
Sewa	2 400

D

Akaun Ambilan	
	RM
Bank	2 400
Akaun Bank	
	RM
Ambilan	2 400

15 Maklumat berikut diambil daripada buku perakaunan Firma Bu Yong pada 31 Mei 2015.

	RM
Alatan pejabat	15 000
Kenderaan	12 000
Akaun Belum Terima	5 000
Susut nilai terkumpul alatan pejabat	1 500

Berapakah jumlah aset bukan semasa dalam Penyata Kedudukan Kewangan?

- A RM25 500
- B RM27 000
- C RM30 500
- D RM32 000

16 Maklumat berikut diperoleh daripada Perniagaan Alat Tulis QS bagi tahun kewangan berakhir 31 Mac 2016.

	RM
Kenderaan	40 000
Inventori 1 April 2015	6 800
Inventori 31 Mac 2016	5 300
Akaun Belum Terima	7 600
Akaun Belum Bayar	4 900
Modal	32 000
Bank	11 350

Berapakah modal kerja?

- A RM13 950
- B RM 18 150
- C RM 19 350
- D RM20 850

17 Antara yang berikut, yang manakah memberi kesan ke atas untung bersih perniagaan?

- I Angkutan keluar
 - II Sewa belum bayar
 - III Insurans prabayar
 - IV Komisen diterima
- A I dan II
 - B I dan IV
 - C II dan III
 - D III dan IV

18 Petikan Imbangan Duga berikut diperolehi daripada Perniagaan Cat Harfiani.

Imbangan Duga pada 30 Jun 2015

Butir	Debit	Kredit
Akaun Belum Terima	RM 50 000	RM
Peruntukan hutang ragu		1 300

Selepas penyediaan Imbangan Duga, seorang penghutang didapati mufliis dan hutangnya sebanyak RM2 000 dihapuskan sebagai hutang lapuk.

Jika peruntukan hutang ragu diselaraskan kepada 2% atas Akaun Belum Terima, apakah kesan terhadap belanja dan hasil perniagaan?

- A Hasil bertambah RM340
- B Hasil bertambah RM960
- C Belanja bertambah RM340
- D Belanja bertambah RM960

19 Penyata Kedudukan Kewangan berikut diambil daripada buku seorang peniaga.

Penyata Kedudukan Kewangan pada 1 Januari 2015

	RM
Kenderaan	30 000
(-) Susut nilai terkumpul	3 000
	27 000

Penyata Kedudukan Kewangan pada 31 Disember 2015

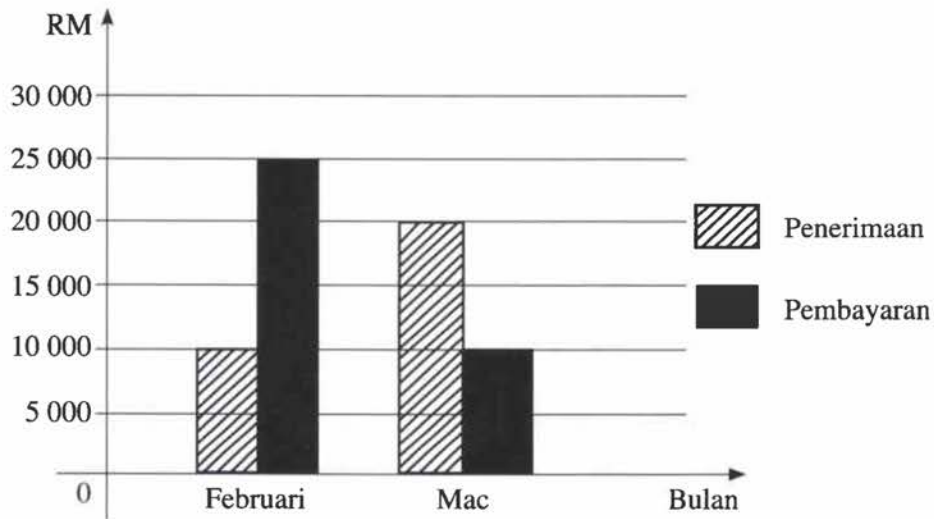
	RM
Kenderaan	30 000
(-) Susut nilai terkumpul	T
	?

Pada 31 Disember 2015, kenderaan disusutnilaikan pada kadar 10% mengikut kaedah baki berkurangan.

Berapakah T?

- A RM2 700
- B RM3 000
- C RM5 700
- D RM6 000

- 20 Graf 1 menunjukkan maklumat mengenai anggaran jumlah penerimaan dan jumlah pembayaran bagi Perniagaan Nirwana.



Graf 1

Maklumat tersebut akan digunakan untuk membuat Penyata Belanjawan Tunai. Baki akhir pada bulan Januari ialah RM20 000.

Berapakah baki akhir bulan Mac?

- A RM5 000
 B RM10 000
 C RM15 000
 D RM30 000
- 21 Urus niaga manakah yang akan diambil kira dalam penyediaan Penyata Belanjawan Tunai?
 A Susut nilai kenderaan
 B Ansuran bulanan kenderaan
 C Kenderaan dibeli secara kredit
 D Membawa masuk kenderaan sebagai modal
- 22 Maklumat berikut diperolehi daripada Perniagaan Zakiah.

Tarikh	Butir	Tunai	Bank	Tarikh	Butir	Tunai	Bank
2015		RM	RM	2015		RM	RM
Mei 18	Jualan	680		Mei 7	Belian		580
20	Tunai		300	20	Bank	300	
				29	Sewa		350

Berapakah baki akhir Buku Tunai Perniagaan Zakiah?

- A Tunai RM380, Bank RM655
 B Tunai RM890, Bank RM655
 C Tunai RM380, Overdraf bank RM630
 D Tunai RM890, Overdraf bank RM630

23 Butiran manakah yang tidak diambil kira dalam pengiraan kongsi untung?

- A Faedah atas modal
- B Faedah atas ambilan
- C Fardah atas pinjaman
- D Gaji, elaun dan bonus

24 Maklumat berikut diperolehi daripada buku Perkongsian Amin dan Rahman pada 31 Disember 2015.

Ikatan Perkongsian menetapkan gaji Amin RM8 000 setahun. Pada 1 Julai 2015, perkongsian telah membayar gaji Amin RM5 000 secara tunai.

Manakah catatan yang betul dalam Akaun Semasa Amin?

- A**
- | Akaun Semasa Amin | |
|-------------------|-------|
| | RM |
| Gaji | 5 000 |
- B**
- | Akaun Semasa Amin | |
|-------------------|-------|
| | RM |
| Tunai | 5 000 |
- C**
- | Akaun Semasa Amin | |
|-------------------|-------|
| | RM |
| Tunai | 3 000 |
- D**
- | Akaun Semasa Amin | |
|-------------------|-------|
| | RM |
| Gaji | 3 000 |

25 Maklumat berikut diperolehi daripada Perkongsian Setiajaya.

	RM
Jumlah aset (kecuali bank)	58 320
Jumlah liabiliti	3 440
Belanja realisasi	800
Semasa proses realisasi, semua aset direalis sebanyak RM51 500	

Berapakah jumlah rugi realisasi?

- A RM3 380
- B RM6 020
- C RM7 620
- D RM10 260

29 Maklumat di bawah adalah perbezaan antara kelab dan persatuan dengan entiti perniagaan.

Kelab dan Persatuan	Entiti Perniagaan
Lebihan aset daripada liabiliti ialah dana terkumpul	Lebihan aset daripada liabiliti ialah modal

Apakah aspek perbezaan bagi maklumat di atas?

- A Ekuiti Pemilik
 B Sumber Maklumat
 C Penerimaan dan Pembayaran
 D Pendapatan dan Perbelanjaan

30 Persatuan Pengakap Daerah Kuala Muda Yan telah mengubah suai bangunan untuk menampung jumlah ahli yang semakin bertambah. Perkara ini akan direkodkan sebagai

- A belanja hasil
 B belanja modal
 C belanja operasi
 D belanja bukan operasi

31 Maklumat berikut diperoleh daripada bendahari Kelab Tennis Sri Coral.

	1 Januari 2015	31 Disember 2015
	RM	RM
Yuran belum terima	105	-
Yuran belum terperoleh	-	65

Jumlah yuran yang telah diterima untuk tahun 2015 ialah sebanyak RM3 180. Berapakah yuran bagi tahun berakhir 31 Disember 2015?

- A RM3 010
 B RM3 140
 C RM3 220
 D RM3 350

32 Maklumat berikut diperoleh daripada buku Kelab Cenderakasih yang menjalankan aktiviti berbentuk pertandingan dan perkhidmatan restoran untuk ahlinya.

Kelab Cenderakasih			
Akaun Pendapatan dan Perbelanjaan bagi tahun berakhir 31 Disember 2015			
	RM		RM
Elektrik dan air	800	Yuran ahli	18 050
Gaji	3 500	X	2 530
Sewa	1 300		

Apakah X?

- A Lebihan
 B Honorarium
 C Untung restoran
 D Hadiah dan piala

- 33 Kejadian banjir besar di Bandar Kota Bharu, Kelantan telah menyebabkan sebahagian rekod perakaunan Perniagaan Batik Qaseh musnah.

Apakah kaedah yang digunakan dalam penentuan pendapatan bagi Perniagaan Batik Qaseh?

- A Kaedah Garis Lurus
B Kaedah Perbandingan
C Kaedah Penilaian Semula
D Kaedah Baki Berkurangan
- 34 Encik Chong, pemilik Kedai Runcit Keluarga tidak menyimpan rekod perniagaannya dengan lengkap. Butir-butir berikut diambil daripada buku perniagaannya pada 31 Disember 2015.

	RM
Baki Akaun Belum Terima 1 Januari 2015	4 010
Diskaun diterima	170
Pulangan masuk	280
Hutang lapuk	206
Penerimaan daripada Akaun Belum Terima	6 018
Baki Akaun Belum Terima pada 31 Disember 2015	2 420

Berapakah jumlah jualan kredit Kedai Runcit Keluarga?

- A RM8 264
B RM8 094
C RM4 914
D RM4 524
- 35 Maklumat berikut diperolehi daripada Perniagaan Wari Enterprise.

	RM
Modal 1 Julai 2014	12 000
Modal 30 Jun 2015	21 000

Sepanjang tempoh perakaunan, Encik Wari telah mengambil tunai perniagaan sebanyak RM2 000 dan inventori perniagaan bernilai RM700 untuk kegunaan peribadi. Beliau juga telah memasukkan modal tambahan sebanyak RM5 000.

Berapakah untung bersih bagi tahun berakhir 30 Jun 2015?

- A RM6 700
B RM 16 700
C RM25 300
D RM35 300

36 Maklumat berikut diperolehi daripada buku perniagaan sebuah firma pengeluaran pakaian sukan di Kuantan pada 31 Disember 2015.

	RM
Alatan kilang	70 000
Insurans kilang	3 600
Gaji operator kilang	7 500
Sewa kilang	4 400
Elektrik dan air kilang	1 090

Maklumat tambahan:

- (i) Alatan kilang disusutnilaikan pada kadar 15% setahun atas kos
- (ii) Elektrik dan air kilang belum bayar RM480

Berapakah kos overhead?

- A RM19 110
- B RM20 070
- C RM26 610
- D RM27 090

37 Maklumat berikut diperolehi daripada Kilang Lina.

Titik pulang modal	500 unit
Kos tetap	RM1 000
Kos berubah	RM3 seunit

Berapakah harga jualan seunit?

- A RM6.00
- B RM5.00
- C RM3.50
- D RM1.50

38 Kelab Ekonomi Rumah Tangga sekolah anda berhasrat menjual burger dengan harga RM3.00 sebiji sempena hari keusahawanan.

Kos yang terlibat adalah seperti berikut:

	RM
Sewaan tapak gerai	50.00
Kos sebiji burger	1.00

Berapakah bilangan burger yang perlu dijual untuk mendapat keuntungan sebanyak RM200?

- A 62 biji
- B 125 biji
- C 250 biji
- D 600 biji

KERTAS JAWAPAN OBJEKTIF

SPM

GUNAKAN PENSEL 2B ATAU BB SAHAJA.
TENTUKAN TIAP-TIAP TANDA ITU HITAM DAN MEMENUHI KESELURUHAN RUANG.
PADAMKAN HINGGA HABIS MANA-MANA TANDA YANG ANDA UBAH.

A MAKLUMAT CALON

NAMA CALON:

ANGKA GILIRAN									
A	A	0	0	0	A	0	0	0	
B	B	1	1	1	B	1	1	1	
C	C	2	2	2	C	2	2	2	
D	D	3	3	3	D	3	3	3	
H	E	4	4	4	E	4	4	4	
J	F	5	5	5	F	5	5	5	
K	G	6	6	6	G	6	6	6	
M	H	7	7	7		7	7	7	
N	J	8	8	8		8	8	8	
P	K	9	9	9		9	9	9	
R	L								
S	M								
T	N								
W	P								
Z	R								

NOMBOR KAD PENGENALAN									
A	0	0	0	0	0	0	0	0	0
H	1	1	1	1	1	1	1	1	1
J	2	2	2	2	2	2	2	2	2
K	3	3	3	3	3	3	3	3	3
L	4	4	4	4	4	4	4	4	4
P	5	5	5	5	5	5	5	5	5
T	6	6	6	6	6	6	6	6	6
W	7	7	7	7	7	7	7	7	7
5	8	8	8	8	8	8	8	8	8
6	9	9	9	9	9	9	9	9	9
7									
8									

KOD DAN NAMA MATA PELAJARAN

KOD	MATA PELAJARAN
<input type="radio"/> 1249	SEJARAH
<input type="radio"/> 1511	SAINS
<input type="radio"/> 2280	GEOGRAFI
<input type="radio"/> 2611	PENDIDIKAN SENI
<input type="radio"/> 3755	PERNIAGAAN
<input type="radio"/> 3756	PRINSIP PERAKAUNAN
<input type="radio"/> 3757	EKONOMI
<input type="radio"/> 4531	FIZIK
<input type="radio"/> 4541	KIMIA
<input type="radio"/> 4551	BIOLOGI
<input type="radio"/> 4561	SAINS TAMBAHAN
<input type="radio"/> 4571	SAINS SUKAN

UNTUK DIISI OLEH KETUA PENGAWAS

B BAGI CALON YANG TIDAK HADIR
ISIKAN DAN HITAMKAN RUANG INI.

TIDAK HADIR

TANDATANGAN
KETUA PENGAWAS

NAMA

C KES KHAS – HITAMKAN JIKA
BERKENAAN BAGI CALON YANG
HADIR.

- RABUN CICIR
 PEKAK BANTAHAN
 HOSPITAL MENUMPANG

NO. PUSAT
MENUMPANG

--	--	--	--

- | | | | | | | | | | | | | | | |
|----|----------------------------|----------------------------|----------------------------|----------------------------|----|----------------------------|----------------------------|----------------------------|----------------------------|----|----------------------------|----------------------------|----------------------------|----------------------------|
| 1 | <input type="checkbox"/> A | <input type="checkbox"/> B | <input type="checkbox"/> C | <input type="checkbox"/> D | 31 | <input type="checkbox"/> A | <input type="checkbox"/> B | <input type="checkbox"/> C | <input type="checkbox"/> D | 61 | <input type="checkbox"/> A | <input type="checkbox"/> B | <input type="checkbox"/> C | <input type="checkbox"/> D |
| 2 | <input type="checkbox"/> A | <input type="checkbox"/> B | <input type="checkbox"/> C | <input type="checkbox"/> D | 32 | <input type="checkbox"/> A | <input type="checkbox"/> B | <input type="checkbox"/> C | <input type="checkbox"/> D | 62 | <input type="checkbox"/> A | <input type="checkbox"/> B | <input type="checkbox"/> C | <input type="checkbox"/> D |
| 3 | <input type="checkbox"/> A | <input type="checkbox"/> B | <input type="checkbox"/> C | <input type="checkbox"/> D | 33 | <input type="checkbox"/> A | <input type="checkbox"/> B | <input type="checkbox"/> C | <input type="checkbox"/> D | 63 | <input type="checkbox"/> A | <input type="checkbox"/> B | <input type="checkbox"/> C | <input type="checkbox"/> D |
| 4 | <input type="checkbox"/> A | <input type="checkbox"/> B | <input type="checkbox"/> C | <input type="checkbox"/> D | 34 | <input type="checkbox"/> A | <input type="checkbox"/> B | <input type="checkbox"/> C | <input type="checkbox"/> D | 64 | <input type="checkbox"/> A | <input type="checkbox"/> B | <input type="checkbox"/> C | <input type="checkbox"/> D |
| 5 | <input type="checkbox"/> A | <input type="checkbox"/> B | <input type="checkbox"/> C | <input type="checkbox"/> D | 35 | <input type="checkbox"/> A | <input type="checkbox"/> B | <input type="checkbox"/> C | <input type="checkbox"/> D | 65 | <input type="checkbox"/> A | <input type="checkbox"/> B | <input type="checkbox"/> C | <input type="checkbox"/> D |
| 6 | <input type="checkbox"/> A | <input type="checkbox"/> B | <input type="checkbox"/> C | <input type="checkbox"/> D | 36 | <input type="checkbox"/> A | <input type="checkbox"/> B | <input type="checkbox"/> C | <input type="checkbox"/> D | 66 | <input type="checkbox"/> A | <input type="checkbox"/> B | <input type="checkbox"/> C | <input type="checkbox"/> D |
| 7 | <input type="checkbox"/> A | <input type="checkbox"/> B | <input type="checkbox"/> C | <input type="checkbox"/> D | 37 | <input type="checkbox"/> A | <input type="checkbox"/> B | <input type="checkbox"/> C | <input type="checkbox"/> D | 67 | <input type="checkbox"/> A | <input type="checkbox"/> B | <input type="checkbox"/> C | <input type="checkbox"/> D |
| 8 | <input type="checkbox"/> A | <input type="checkbox"/> B | <input type="checkbox"/> C | <input type="checkbox"/> D | 38 | <input type="checkbox"/> A | <input type="checkbox"/> B | <input type="checkbox"/> C | <input type="checkbox"/> D | 68 | <input type="checkbox"/> A | <input type="checkbox"/> B | <input type="checkbox"/> C | <input type="checkbox"/> D |
| 9 | <input type="checkbox"/> A | <input type="checkbox"/> B | <input type="checkbox"/> C | <input type="checkbox"/> D | 39 | <input type="checkbox"/> A | <input type="checkbox"/> B | <input type="checkbox"/> C | <input type="checkbox"/> D | 69 | <input type="checkbox"/> A | <input type="checkbox"/> B | <input type="checkbox"/> C | <input type="checkbox"/> D |
| 10 | <input type="checkbox"/> A | <input type="checkbox"/> B | <input type="checkbox"/> C | <input type="checkbox"/> D | 40 | <input type="checkbox"/> A | <input type="checkbox"/> B | <input type="checkbox"/> C | <input type="checkbox"/> D | 70 | <input type="checkbox"/> A | <input type="checkbox"/> B | <input type="checkbox"/> C | <input type="checkbox"/> D |
| 11 | <input type="checkbox"/> A | <input type="checkbox"/> B | <input type="checkbox"/> C | <input type="checkbox"/> D | 41 | <input type="checkbox"/> A | <input type="checkbox"/> B | <input type="checkbox"/> C | <input type="checkbox"/> D | 71 | <input type="checkbox"/> A | <input type="checkbox"/> B | <input type="checkbox"/> C | <input type="checkbox"/> D |
| 12 | <input type="checkbox"/> A | <input type="checkbox"/> B | <input type="checkbox"/> C | <input type="checkbox"/> D | 42 | <input type="checkbox"/> A | <input type="checkbox"/> B | <input type="checkbox"/> C | <input type="checkbox"/> D | 72 | <input type="checkbox"/> A | <input type="checkbox"/> B | <input type="checkbox"/> C | <input type="checkbox"/> D |
| 13 | <input type="checkbox"/> A | <input type="checkbox"/> B | <input type="checkbox"/> C | <input type="checkbox"/> D | 43 | <input type="checkbox"/> A | <input type="checkbox"/> B | <input type="checkbox"/> C | <input type="checkbox"/> D | 73 | <input type="checkbox"/> A | <input type="checkbox"/> B | <input type="checkbox"/> C | <input type="checkbox"/> D |
| 14 | <input type="checkbox"/> A | <input type="checkbox"/> B | <input type="checkbox"/> C | <input type="checkbox"/> D | 44 | <input type="checkbox"/> A | <input type="checkbox"/> B | <input type="checkbox"/> C | <input type="checkbox"/> D | 74 | <input type="checkbox"/> A | <input type="checkbox"/> B | <input type="checkbox"/> C | <input type="checkbox"/> D |
| 15 | <input type="checkbox"/> A | <input type="checkbox"/> B | <input type="checkbox"/> C | <input type="checkbox"/> D | 45 | <input type="checkbox"/> A | <input type="checkbox"/> B | <input type="checkbox"/> C | <input type="checkbox"/> D | 75 | <input type="checkbox"/> A | <input type="checkbox"/> B | <input type="checkbox"/> C | <input type="checkbox"/> D |
| 16 | <input type="checkbox"/> A | <input type="checkbox"/> B | <input type="checkbox"/> C | <input type="checkbox"/> D | 46 | <input type="checkbox"/> A | <input type="checkbox"/> B | <input type="checkbox"/> C | <input type="checkbox"/> D | 76 | <input type="checkbox"/> A | <input type="checkbox"/> B | <input type="checkbox"/> C | <input type="checkbox"/> D |
| 17 | <input type="checkbox"/> A | <input type="checkbox"/> B | <input type="checkbox"/> C | <input type="checkbox"/> D | 47 | <input type="checkbox"/> A | <input type="checkbox"/> B | <input type="checkbox"/> C | <input type="checkbox"/> D | 77 | <input type="checkbox"/> A | <input type="checkbox"/> B | <input type="checkbox"/> C | <input type="checkbox"/> D |
| 18 | <input type="checkbox"/> A | <input type="checkbox"/> B | <input type="checkbox"/> C | <input type="checkbox"/> D | 48 | <input type="checkbox"/> A | <input type="checkbox"/> B | <input type="checkbox"/> C | <input type="checkbox"/> D | 78 | <input type="checkbox"/> A | <input type="checkbox"/> B | <input type="checkbox"/> C | <input type="checkbox"/> D |
| 19 | <input type="checkbox"/> A | <input type="checkbox"/> B | <input type="checkbox"/> C | <input type="checkbox"/> D | 49 | <input type="checkbox"/> A | <input type="checkbox"/> B | <input type="checkbox"/> C | <input type="checkbox"/> D | 79 | <input type="checkbox"/> A | <input type="checkbox"/> B | <input type="checkbox"/> C | <input type="checkbox"/> D |
| 20 | <input type="checkbox"/> A | <input type="checkbox"/> B | <input type="checkbox"/> C | <input type="checkbox"/> D | 50 | <input type="checkbox"/> A | <input type="checkbox"/> B | <input type="checkbox"/> C | <input type="checkbox"/> D | 80 | <input type="checkbox"/> A | <input type="checkbox"/> B | <input type="checkbox"/> C | <input type="checkbox"/> D |
| 21 | <input type="checkbox"/> A | <input type="checkbox"/> B | <input type="checkbox"/> C | <input type="checkbox"/> D | 51 | <input type="checkbox"/> A | <input type="checkbox"/> B | <input type="checkbox"/> C | <input type="checkbox"/> D | | | | | |
| 22 | <input type="checkbox"/> A | <input type="checkbox"/> B | <input type="checkbox"/> C | <input type="checkbox"/> D | 52 | <input type="checkbox"/> A | <input type="checkbox"/> B | <input type="checkbox"/> C | <input type="checkbox"/> D | | | | | |
| 23 | <input type="checkbox"/> A | <input type="checkbox"/> B | <input type="checkbox"/> C | <input type="checkbox"/> D | 53 | <input type="checkbox"/> A | <input type="checkbox"/> B | <input type="checkbox"/> C | <input type="checkbox"/> D | | | | | |
| 24 | <input type="checkbox"/> A | <input type="checkbox"/> B | <input type="checkbox"/> C | <input type="checkbox"/> D | 54 | <input type="checkbox"/> A | <input type="checkbox"/> B | <input type="checkbox"/> C | <input type="checkbox"/> D | | | | | |
| 25 | <input type="checkbox"/> A | <input type="checkbox"/> B | <input type="checkbox"/> C | <input type="checkbox"/> D | 55 | <input type="checkbox"/> A | <input type="checkbox"/> B | <input type="checkbox"/> C | <input type="checkbox"/> D | | | | | |
| 26 | <input type="checkbox"/> A | <input type="checkbox"/> B | <input type="checkbox"/> C | <input type="checkbox"/> D | 56 | <input type="checkbox"/> A | <input type="checkbox"/> B | <input type="checkbox"/> C | <input type="checkbox"/> D | | | | | |
| 27 | <input type="checkbox"/> A | <input type="checkbox"/> B | <input type="checkbox"/> C | <input type="checkbox"/> D | 57 | <input type="checkbox"/> A | <input type="checkbox"/> B | <input type="checkbox"/> C | <input type="checkbox"/> D | | | | | |
| 28 | <input type="checkbox"/> A | <input type="checkbox"/> B | <input type="checkbox"/> C | <input type="checkbox"/> D | 58 | <input type="checkbox"/> A | <input type="checkbox"/> B | <input type="checkbox"/> C | <input type="checkbox"/> D | | | | | |
| 29 | <input type="checkbox"/> A | <input type="checkbox"/> B | <input type="checkbox"/> C | <input type="checkbox"/> D | 59 | <input type="checkbox"/> A | <input type="checkbox"/> B | <input type="checkbox"/> C | <input type="checkbox"/> D | | | | | |
| 30 | <input type="checkbox"/> A | <input type="checkbox"/> B | <input type="checkbox"/> C | <input type="checkbox"/> D | 60 | <input type="checkbox"/> A | <input type="checkbox"/> B | <input type="checkbox"/> C | <input type="checkbox"/> D | | | | | |

Kertas soalan ini mengandungi dua bahagian: Bahagian A dan Bahagian B. Jawab semua soalan di Bahagian A dan dua soalan daripada Bahagian B.

Bahagian A

[60 markah]

Jawab semua soalan.

- 1 (a) Kenal pasti akaun yang perlu didebitkan dan dikreditkan dalam urus niaga berikut:

Pemilik telah mengambil barang niaga RM850 daripada perniagaannya untuk didermakan kepada rumah jagaan orang tua.

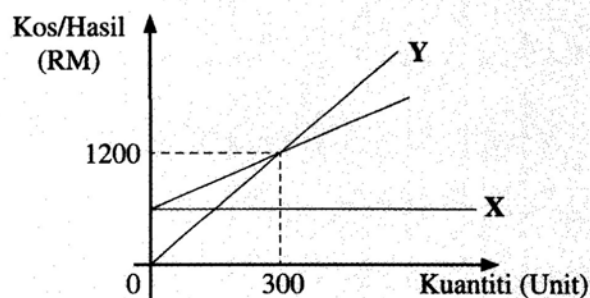
[2 markah]

- (b) Apakah yang dimaksudkan dengan hasil bukan operasi yang terdapat dalam Akaun Untung Rugi? Berikan contoh. [2 markah]
- (c) Maklumat berikut berkaitan dengan pendapatan anggaran penerimaan dan pembayaran Cik Orkid pada bulan Oktober 2016.

	RM
Hasil perkhidmatan	4 300
Komisen diterima	645
Insurans	435
Belanja am	51
Utiliti	473

Hitungkan lebihan atau kurangan. [2 markah]

- (d) Namakan garisan X dan garisan Y dalam Graf Titik Pulang Modal di bawah. [2 markah]



- (e) Sekiranya tiada Ikatan Perkongsian antara rakan kongsi maka Akta Perkongsian 1961 adalah terpakai. Nyatakan dua peruntukan yang terkandung dalam akta berkenaan. [2 markah]

2 Kelab Kebajikan dan Sukan Ipoh ditubuhkan pada 1 Januari 2015. Dua sumbangan besar telah diterima pada tarikh berkenaan:

Tanah dan bangunan bernilai RM1 800 000 terdiri daripada

Tanah	RM1 000 000
Bangunan	RM800 000

Sekeping cek bernilai RM300 000 telah dibankkan.

Maklumat di bawah telah diperoleh:

(i) Penerimaan sehingga 31 Disember 2015 (dibankkan)	RM '000
Yuran	306
Sewaan alatan sukan	276
Jualan restoran	938
(ii) Pembayaran 31 Disember 2015 (cek):	
Gaji:	
Pelayan kelab	180
Pekerja restoran	243
Pekerja am kelab	90
Pekerja pembersihan	120
Alatan sukan	300
Belian restoran	405
Kadar bayaran	63
(iii) Belanja terakru pada 31 Disember 2015:	
Belian restoran	15
Kadar bayaran	17
(iv) Baki pada 31 Disember 2015:	
Alatan sukan	250
Akaun Belum Terima sewaan alatan sukan	6
Inventori restoran	5
Akaun Belum Terima restoran	52
Yuran belum terima	6
Yuran belum terperoleh	3

(v) 80% daripada jumlah kadar bayaran adalah untuk kegunaan restoran.

(vi) Bangunan disusutnilaikan 2% setahun menggunakan kaedah garis lurus

Anda dikehendaki:

(a) Menyediakan akaun berikut bagi tahun berakhir 31 Disember 2015:

- | | |
|--|------------|
| (i) Akaun Bank | [3 markah] |
| (ii) Akaun Yuran | [3 markah] |
| (iii) Akaun Perdagangan Restoran | [4 markah] |
| (iv) Akaun Pendapatan dan perbelanjaan | [8 markah] |

(b) Menyediakan Penyata Kedudukan Kewangan pada 31 Disember 2015. [7 markah]

3 Imbangan Duga pada 30 Jun 2016 yang diperoleh daripada Perniagaan Hambali adalah seperti berikut:

	Debit RM	Kredit RM
Pengiklanan	750	
Bank		5 810
Modal		20 000
Diskaun diberi	245	
Diskaun diterima		125
Ambilan	1 800	
Lengkapan(kos)	24 000	
Susut nilai terkumpul lengkapan		11 500
Belanja am	7 510	
Inventori 1 Julai 2015	25 000	
Tunai runcit	2 550	
Peruntukan hutang ragu		2 550
Belian	359 110	
Pulangan belian		4 230
Sewa	18 000	
Belanja membaiki	6 500	
Gaji	36 800	
Jualan		459 900
Pulangan jualan	8 900	
Akaun Belum Bayar		26 620
Akaun Belum Terima	38 325	
Belanja pengangkutan	1 245	
	<u>530 735</u>	<u>530 735</u>

Maklumat tambahan:

(i) Inventori pada 30 Jun 2016 dinilai seperti berikut:

	Harga Kos RM	Harga Pasaran RM
Produk A	5 800	6 670
Produk B	6 580	9 850
Produk C	11 540	8 250
Produk D	7 890	9 030

- (ii) Pemilik telah membeli lengkapan bernilai RM6 750 pada 1 Jun 2016 dengan menggunakan wang peribadi. Perkara tersebut belum direkodkan.
- (iii) Lengkapan disusutnilaikan sebanyak 10% menggunakan kaedah garis lurus. Polisi perniagaan menetapkan susut nilai dikira untuk setahun sekiranya aset dibeli dalam tempoh kewangan dan susut nilai tidak diambil kira pada tahun aset dilupuskan.
- (iv) Cek tak laku telah direkodkan tetapi pembatalan diskaun diberi RM35 masih belum direkodkan.
- (v) Peruntukan hutang ragu dikekalkan kepada 5% daripada Akaun Belum Terima.
- (vi) Sepanjang tahun pemilik telah mengambil alat tulis RM120 untuk kegunaan peribadi. Perkara ini direkodkan sebagai belanja am.

- (vii) Invois berjumlah RM1 800 untuk sewa adalah bagi tempoh tiga bulan sehingga 31 Ogos 2016.
- (viii) Perniagaan menyertai kempen pengiklanan yang berterusan dengan kos RM450 setiap bulan. Invois terakhir yang diterima adalah bagi bulan April 2016.
- (ix) Jualan termasuk RM2 400 yang diterima untuk kerja-kerja yang akan dijalankan pada bulan September 2016.

Anda dikehendaki menyediakan:

- (a) Penyata Untung Rugi bagi tahun berakhir 30 Jun 2016. [12 markah]
- (b) Penyata Kedudukan Kewangan pada 30 Jun 2016. [13 markah]

Bahagian B

[40 markah]

Jawab mana-mana dua soalan daripada bahagian ini.

- 4 Encik Azman, pemilik Azman Enterprise adalah pengeluar biskut tradisional. Maklumat berikut diperoleh daripada buku Azman Enterprise bagi tahun berakhir 30 Disember 2015.

	RM
Inventori 1 Januari 2015:	
Bahan langsung	7 810
Alat-alat kecil	210
Alat tulis	140
Kerja dalam proses 1 Januari 2015:	
Buruh langsung	1 980
Overhed	2 022
Bahan langsung	1 510
Belian bahan langsung	48 123
Pulangan belian bahan langsung	280
Angkutan masuk	300
Buruh langsung	10 880
Royalti	5 000
Gaji penyelia kilang	3 121
Kadar bayaran	1 400
Belian alat-alat kecil	740
Belian alat tulis	350
Angkutan keluar	125
Diskaun diberi	330
Komisen jualan	1 050
Iklan	500
Bank	38 108
Modal	50 000
Mesin (kos)	21 000
Jualan barang siap	95 700
Susut nilai terkumpul mesin	3 990

Maklumat tambahan:

	RM
(i) Inventori 31 Disember 2015:	
Bahan langsung	6 030
Alat-alat kecil	180
Alat tulis	150
(ii) Kerja dalam proses 31 Disember 2015:	
Buruh langsung	1 750
Overhed	1 925
Bahan langsung	1 230
(iii) Mesin disusutnilai 10% setahun mengikut kaedah baki berkurangan.	
(iv) Kadar bayaran dibahagikan antara kilang 70% dan pejabat 30%.	

Anda dikehendaki:

- (a) Menyediakan Akaun Alat-alat Kecil. [3 markah]
- (b) Menyediakan Penyata Kos Pengeluaran bagi tahun berakhir 31 Disember 2015. [14 markah]
- (c) Menghitung Margin Untung Kasar [3 markah]

5 (a) Petikan Penyata Kedudukan Kewangan berikut diperoleh daripada buku perakaunan Zainon Berhad.

Zainon Berhad
Penyata Kedudukan Kewangan pada 31 Disember 2013, 2014 dan 2015

	RM
<u>Modal diterbitkan dan berbayar</u>	
1 000 000 unit 8% syer keutamaan RM2.00 sesyer	2 000 000
4 800 000 unit syer biasa RM1.00 sesyer	4 800 000
	<u>6 800 000</u>

Jadual di bawah menunjukkan keuntungan syarikat yang diperuntukkan untuk pembayaran dividen bagi tahun berakhir 31 Disember 2013 dan 31 Disember 2014:

Tahun	Keuntungan RM
2013	150 000
2014	314 000

Maklumat tambahan:

- (i) Untung bersih bagi tahun berakhir 31 Disember 2015 sebanyak RM640 000
- (ii) Pada 30 Jun 2015. Lembaga Pengarah telah:
- mengisytiharkan pembayaran dividen interim 5% kepada pemegang syer keutamaan dan 2% kepada pemegang syer biasa.
 - mencadangkan dividen akhir 7 % kepada pemegang syer biasa.

Anda dikehendaki:

- (i) Melengkapkan jadual di **Lampiran A** untuk menunjukkan agihan dividen antara pemegang syer keutamaan dengan pemegang syer biasa bagi tahun berakhir 31 Disember 2013 dan 31 Disember 2014. [4 markah]
- (ii) Menghitung kadar dividen syer biasa bagi tahun berakhir 31 Disember 2014. [2 markah]
- (iii) Menghitung dividen interim dan dividen akhir tahun berakhir 31 Disember 2015. [4 markah]

(b) ~~Jasarama Berhad~~ menggunakan Buku Tunai Runcit mengikut Sistem Panjar. Dana runcit sebanyak RM380 ~~dikeluarkan~~ pada hari pertama setiap awal bulan.

Pada 30 September 2015, Buku Tunai Runcit berbaki RM180 manakala tunai di tangan adalah sebanyak RM550. Sepanjang bulan Oktober 2016, urus niaga tunai runcit adalah seperti berikut:

2015		RM
Oktober 1	Penerimaan tunai daripada ketua juruwang	?
3	Pakir	28
8	Dakwat pencetak	37
15	Sampul surat ekspres	19
20	Petrol untuk van penghantaran	30
23	Bungkusan pos	25

Anda dikehendaki menyediakan:

Buku Tunai Runcit dengan menunjukkan lajur analisis Alat Tulis, Pos dan Belanja Perjalanan sehingga 1 November 2015 (gunakan **Lampiran B**). [10 markah]

6 Imbangan Duga berikut diperoleh daripada buku perniagaan Mazenah Book Store pada 30 Jun 2015.

Mazenah Book Store
Imbangan Duga pada 30 Jun 2015

Butir	Debit RM	Kredit RM
Jualan		129 200
Belian	104 800	
Pulangan masuk		1 200
Bank (overdraf)		5 600
Sewa	11 760	
Hutang lapuk terpulih	790	
Akaun Belum Terima	31 640	
Akaun Belum Bayar		14 760
Ambilan		2 380
Kadar bayaran	4 200	
Kenderaan (kos)	45 000	
Lengkapan (kos)	9 700	
Inventori 1 Julai 2014	27 860	
Inventori 30 Jun 2015	30 850	
Faedah overdraf bank		280
Pulangan keluar		1 470
	266 600	154 890

- (a) Imbangan Duga tersebut tidak seimbang. **Anda dikehendaki menyediakan** semula Imbangan duga berkenaan selepas mengenal pasti kesilapan dan ketinggalan butiran. [7 markah]
- (b) Setelah Imbangan Duga disediakan di 6(a), kesilapan berikut telah ditemui:
- (i) Belanja kenderaan RM200 telah direkodkan dalam Akaun Kenderaan.
 - (ii) Kadar bayaran yang telah dijelaskan dengan cek sebanyak RM369 telah direkodkan sebagai RM396.
 - (iii) Cek yang diterima daripada penghutang dan dibankkan bernilai RM640 telah dipulangkan dan ditanda 'Rujuk Penyuruh bayar' oleh bank.
 - (iv) Belian barang niaga RM700 telah didebitkan dalam Akaun Belian sebagai RM770, manakala Akaun Kadar bayaran telah berkurangan catat sebanyak RM70.
 - (v) Nota kredit RM540 daripada pemiutang telah didebitkan dalam Akaun Pulangan Keluar dan dikreditkan ke dalam Akaun Belum Bayar.

Anda dikehendaki menyediakan catatan jurnal untuk membetulkan kesilapan berkenaan. Keterangan tidak diperlukan. [11 markah]

- (c) Jelaskan kesan perekodan Sistem Inventori berterusan terhadap Akaun Perdagangan. [2 markah]

KERTAS PEPERIKSAAN TAMAT

LAMPIRAN A

NO. KAD PENGENALAN

--	--	--	--	--	--	--	--	--	--	--	--	--	--	--	--	--	--	--	--

ANGKA GILIRAN

--	--	--	--	--	--	--	--	--	--

Tahun	Keuntungan Diperuntukkan Untuk Dividen RM	Dividen Syer Keutamaan RM	Dividen Syer Biasa RM
2013			
2014			

